

甲部 (30 分)

1. 假設製造智能手機所需的晶片的供應出現短缺。

(a) 試解釋這會如何影響智能手機生產商生產智能手機的機會成本。 (3 分)

(b) 對智能手機生產商而言，購買晶片的開支屬固定成本還是可變成本？試加解釋。 (2 分)

寫於邊界以外的答案，將不予評閱。

寫於邊界以外的答案，將不予評閱。

寫於邊界以外的答案，將不予評閱。

0000

2. 香港的食水是由水務署供應。寫出香港食水由政府部門而非私營企業供應的兩項好處。 (2分)

Blank writing area with horizontal dashed lines.

寫於邊界以外的答案，將不予評閱。

寫於邊界以外的答案，將不予評閱。

寫於邊界以外的答案，將不予評閱

4. 下列是一家補習社聘用兩位補習導師的合約。

甲合約
甲補習導師
每月\$15,000

乙合約
乙補習導師
每月\$8,000 + 每位學生\$200

- (a) 從補習社的角度，解釋乙合約較甲合約的兩項優勝之處。 (4分)
- (b) 一些補習導師賺取的收入遠高於其他補習導師。除了付酬方式不同外，解釋可能導致補習導師之間收入不均的兩項原因。 (4分)

寫於邊界以外的答案，將不予評閱。

寫於邊界以外的答案，將不予評閱。

寫於邊界以外的答案，將不予評閱

乙部 (40 分)

7. 細閱以下新聞撮要。

甲國近年愈來愈多人飼養寵物，為了培訓更多獸醫以擴展獸醫服務，除了提供資助予大學開辦更多獸醫課程，政府更設立了一間獸醫學校，首批獸醫課程的學生已經畢業。修讀獸醫課程的畢業生大多受僱於本地的動物醫院、診所或農場。

- (a) 解釋受僱於本地動物醫院的獸醫課程畢業生屬於哪種生產要素。 (2 分)
- (b) 以圖輔助，解釋在甚麼條件下獸醫的均衡工資會下降。 (7 分)
- (c) 以一項原因解釋為甚麼動物醫院可能享有外部規模經濟。 (2 分)

寫於邊界以外的答案，將不予評閱。

寫於邊界以外的答案，將不予評閱。

寫於邊界以外的答案，將不予評閱

寫於邊界以外的答案，將不予評閱。

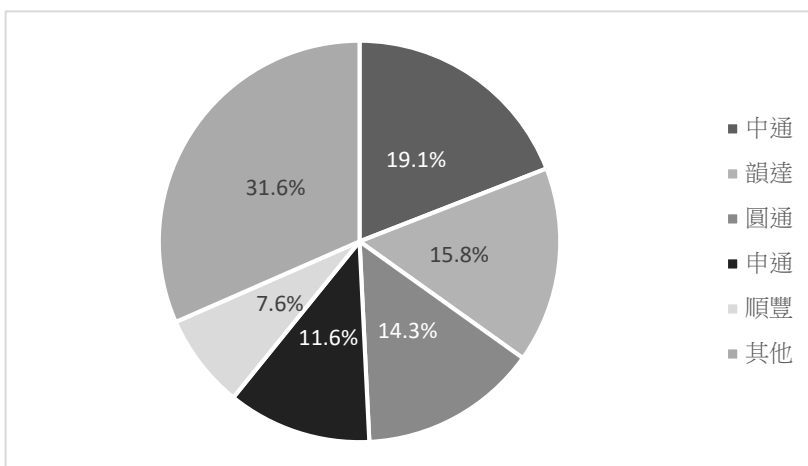
寫於邊界以外的答案，將不予評閱。

寫於邊界以外的答案，將不予評閱。

000

8. 中國內地有不同的物流公司提供速遞服務。

資料 A：2019 年中國內地物流公司按業務完成量計算的市場佔有率



(資料來源：中華人民共和國國家郵政局、上述物流公司年報)

資料 B：有關順豐控股擬收購一間物流公司的報導

2021 年 2 月，順豐控股提出收購嘉里物流聯網(股票編號：0636) 超過一半的股權。交易完成後，嘉里物流聯網保持香港的上市地位。有關交易的申請仍需有關政府部門批准。

(資料來源：綜合報導)

- (a) 根據資料 A，該市場在 2019 年屬哪種市場結構？列出這市場結構的**兩項**特徵。 (3 分)
- (b) 根據資料 B，嘉里物流聯網屬於哪種商業所有權形式？列舉**兩項**該種商業所有權形式的特徵。 (3 分)
- (c) 根據資料 B，若交易獲批，解釋該收購屬於哪一類結合，寫出這類結合的**兩個**可能動機。 (4 分)

寫於邊界以外的答案，將不予評閱。

寫於邊界以外的答案，將不予評閱。

寫於邊界以外的答案，將不予評閱。

寫於邊界以外的答案，將不予評閱。

寫於邊界以外的答案，將不予評閱。



寫於邊界以外的答案，將不予評閱。

9. 目前，甲國政府的首要政策是讓更多人接受專上教育。




資料 A：一篇關於甲國專上教育服務市場的報導

甲國的專上教育服務分別由公營專上學院和私營專上學院提供。由政府營辦的公營專上學院不收取任何學費，共提供 50,000 個學額。每年都有很多學生抱怨未能獲得公營專上學院取錄，當中部分學生會轉為報讀私營專上學院所提供的課程。

資料 B：甲國按教育程度劃分的就業人士每月入息中位數

教育程度 (最高就讀程度)	每月入息中位數 (\$)
小學或以下	12,000
中學	14,500
專上教育	22,300

資料 C：不同持份者對專上教育服務的意見

 一位社工	政府可以考慮為合資格但未能入讀公營專上學院的低收入家庭學生提供學費減免，讓他們入讀私營專上學院，令國家更公平。
 一位低收入人士	若私營專上學院的學費過於高昂，我將無力負擔。
 一位政府官員	政府的目標是盡可能讓更多人接受專上教育。

- (a) 參考資料 A，解釋公營專上學院提供的專上教育服務是否免費物品。 (2 分)
- (b) 以一供需圖說明資料 A 描述的公營專上教育服務的市場。 (3 分)
- (c) 參考資料 B 和 C，論證該社工的說法。 (3 分)

寫於邊界以外的答案，將不予評閱。

寫於邊界以外的答案，將不予評閱。

寫於邊界以外的答案，將不予評閱

考生須以短文形式回答(d)部。評分準則包括運用資料及經濟理論，內容切題，鋪排合乎邏輯，以及表達清晰。

(d) 假設現有以下兩項建議讓更多低收入人士可接受專上教育：

建議 I	向私營專上學院的教育服務提供從量津貼
建議 II	對私營專上教育服務制訂有效的學費上限

參考以上各項資料並就你對經濟學的認識，討論以下每組持份者會偏好哪項建議(建議 I 或 II)：

- 私營專上學院的經營者
- 低收入人士
- 關注專上教育普及程度的政府官員

(提示：你可討論為甚麼某組持份者偏好某項建議，或為甚麼該組持份者並不偏好另一建議。)

(11 分)

寫於邊界以外的答案，將不予評閱。

寫於邊界以外的答案，將不予評閱。

寫於邊界以外的答案，將不予評閱。

寫於邊界以外的答案，將不予評閱。

寫於邊界以外的答案，將不予評閱。

試卷完